

Antagningsprov i Musicklära
Provexempel

Musicklära

1. Ton- & oktavnamn

Diskantklav

a) Skriv tonens namn
(c², giss³, lilla f etc.).

b) Notera den angivna tonen.

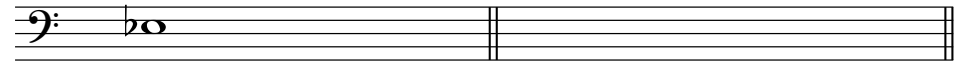


_____ dess²

Basklav

c) Skriv tonens namn
(c², giss³, lilla f etc.).

d) Notera den angivna tonen.



_____ Stora Giss

2. Intervall

Diskantklav

a) Benäm det noterade
intervallet (t. ex. L3, F5 etc).

b) Notera på samma sätt
det angivna intervallet.



R5 (ren kvint) **nedåt**

Basklav

c) Benäm det noterade
intervallet (t. ex. L3, F5 etc).

d) Notera på samma sätt
det angivna intervallet.



L3 (liten ters) **uppåt**

3. Tonarter

Diskantklav

a) Ange vilken **durtonart** som
har denna tonartssignatur.


b) Skriv tonartssignatur
för **F-dur**.



Basklav


c) Ange vilken **mollonart** som
har denna tonartssignatur.

d) Skriv tonartssignatur
för **d-moll**.



4. Taktarter

Skriv in taktartssignaturer i de olika takterna (t. ex: $\frac{2}{4}$ $\frac{3}{8}$).



5. Notvärden och paustecken

a) Komplettera takterna med **ett(!) notvärde** så att de sammanlagda notvärdena motsvarar taktarten.

b) Komplettera takterna med **ett(!) paustecken** så att de sammanlagda tidsvärdena motsvarar taktarten.



6. Ackord

a) Ange med ackordbeteckningar de noterade ackorden på linjen ovanför notsystemet.

b) Notera på liknande sätt de angivna ackorden.